


## Räkna med grödor

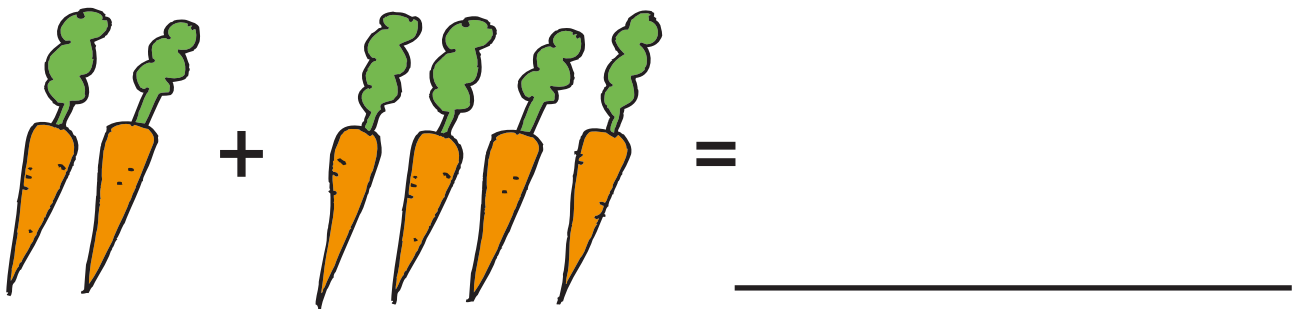


### UPPGIFT I SKOLAN

---

#### DE FYRA RÄKNESÄTTEN | PLUS

Tänk så här: Kalle har två morötter och får sedan fyra morötter av Anna. Hur många morötter har Kalle nu totalt?




4 + 12 = \_\_\_\_\_

3 + 7 = \_\_\_\_\_

5 + 7 = \_\_\_\_\_

## DE FYRA RÄKNESÄTTEN | MINUS

Tänk så här: Kalle har fyra rödbetor och ger sedan två rödbetor till Anna. Hur många rödbetor har Kalle kvar?



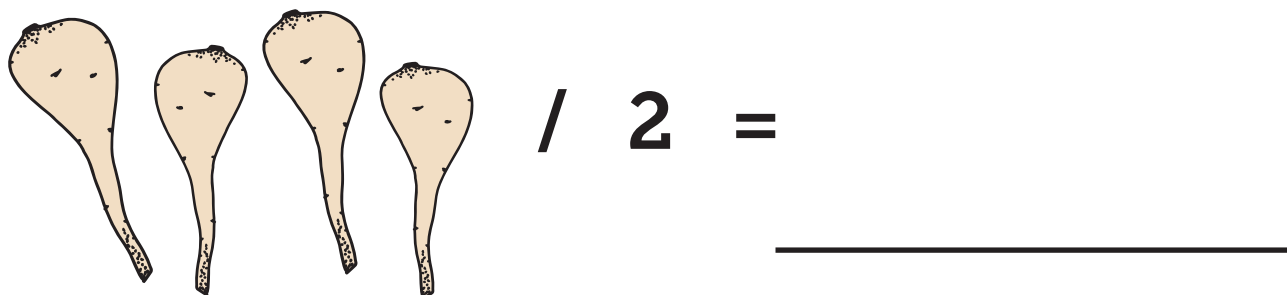
$3 - 1 =$  \_\_\_\_\_

$9 - 7 =$  \_\_\_\_\_

$12 - 3 =$  \_\_\_\_\_

## DE FYRA RÄKNESÄTTEN | DIVISION

Tänk så här: Fröken har fyra palsternackor. Hon ska fördela dessa jämt så att två elever får lika många.



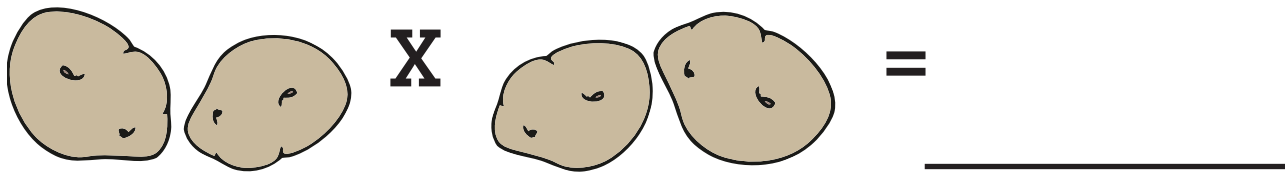
$8 / 4 =$  \_\_\_\_\_

$9 / 3 =$  \_\_\_\_\_

$6 / 3 =$  \_\_\_\_\_

## DE FYRA RÄKNESÄTTEN | MULTIPLIKATION

Tänk så här: Om två elever har två potatisar var. Hur många får de tillsammans?



$3 \times 3 =$  \_\_\_\_\_

$4 \times 2 =$  \_\_\_\_\_

$7 \times 2 =$  \_\_\_\_\_

## OMVANDLA ENHETER | VIKT

1 Kilo = 10 hekto 0 1000 gram

Anna har två kilo potatis. Hur många hekto är det? \_\_\_\_\_

En riktigt stor potatis väger två hekto. Hur många gram är det? \_\_\_\_\_

## OMVANDLA ENHETER | VOLYM

Liter = 10 deciliter = 1000 centiliter

En vattenkanna rymmer två liter. Hur många deciliter är det? \_\_\_\_\_

En skopa rymmer en halv liter. Hur många centiliter är det? \_\_\_\_\_

