

# Arbetshäfte

# **BONDGÅRDEN**

Detta material vänder sig främst till elever i årskurs F-3.

I arbetshäftet får eleverna läsa, skriva och räkna med djuren på bondgården. Häftet innehåller bland annat uppgifter där eleverna ska läsa och dra streck till bild, skriva bokstäver i rätt ordning, räkna djurens ben och lösa kluringar.

# LÄS, SKRIV OCH RÄKNA MED BONDGÅRDSDJUREN



NAMN: \_\_\_\_\_

# LÄS OCH DRA STRECK TILL RÄTT DJUR


Jag ser en gris.



Jag ser en häst.




Jag ser en anka.



Jag ser ett får.



Jag ser en ko.



# LÄS OCH DRA STRECK TILL RÄTT DJUR


Jag ser en get.



Jag ser en katt.



Jag ser en tupp.



Jag ser en kyckling.

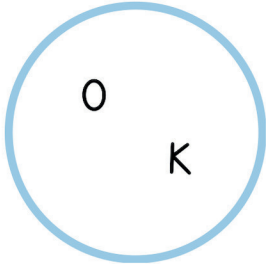


Jag ser en höna.

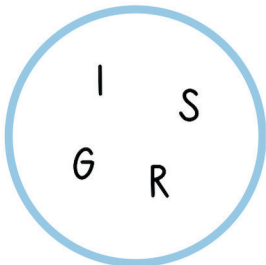


# LISTA UT ORDET


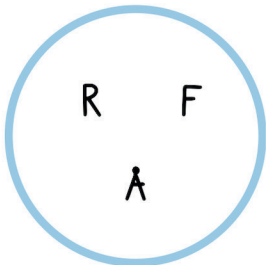
Lista ut ordet i cirkeln. Dra streck till rätt bild och skriv ordet.




\_\_\_\_\_




\_\_\_\_\_



\_\_\_\_\_



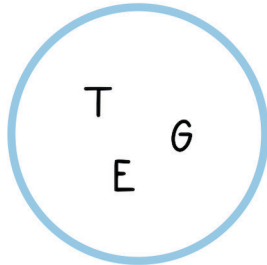
\_\_\_\_\_



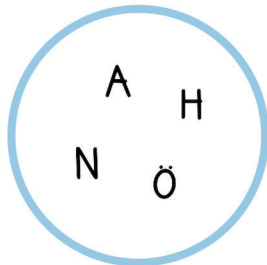
\_\_\_\_\_

# LISTA UT ORDET



Lista ut ordet i cirkeln. Dra streck till rätt bild och skriv ordet.




\_\_\_\_\_




\_\_\_\_\_



\_\_\_\_\_



\_\_\_\_\_



\_\_\_\_\_

# SKRIV ORDET




--	--	--




--	--



--	--	--	--



--	--	--	--



--	--	--	--


# SKRIV ORDET



--	--	--	--




--	--	--	--	--	--	--	--



--	--	--	--



--	--	--



--	--	--	--



# HITTA ORDEN

Kan du hitta alla djur i rutan?

Z	K	O	I	S	T	T	R
P	O	G	E	T	T	D	S
P	A	N	K	A	F	Å	R
K	Y	C	K	L	I	N	G
H	Ä	S	T	U	P	P	R
G	R	I	S	H	Ö	N	A

HÄST      GRIS      KO      GET      KATT  
KYCKLING      FÅR      ANKA      TUPP      HÖNA


# RÄKNA DJUREN

Räkna djuren och skriv rätt antal i rutorna.  
Ett tips är att stryka över djuren som du har räknat.




# RÄKNA BEN


Hur många ben har djuren tillsammans?

 $+$  $=$ 


---

 $+$  $+$  $=$ 


---

 $+$  $+$  $=$ 

---

 $+$  $+$  $=$ 

---

 $+$  $+$  $=$ 

---

# LÖS KLURINGEN

Varje djur motsvarar ett tal, kan du lista ut vilket?

$$\text{Horse} + \text{Horse} = \underline{4}$$

$$\text{Sheep} + \text{Horse} = \underline{6}$$

$$\text{Pig} + \text{Sheep} = \underline{9}$$

$$\text{Horse} = \underline{\quad}$$

$$\text{Sheep} = \underline{\quad}$$

$$\text{Pig} = \underline{\quad}$$